



Funções escalares de várias variáveis

Superfícies de nível

Objetivos:

- Compreender a noção de superfícies de nível e sua relação com o domínio e imagem da função.
- Calcular e identificar a superfície de nível que passa por um dado ponto.
- Esboçar as superfícies de nível.

Seja $f : D \subset \mathbb{R}^n \rightarrow \mathbb{R}$, $(x_1, x_2, \dots, x_n) \in D \mapsto w = f(x_1, x_2, \dots, x_n) \in \mathbb{R}$.

Seja $k \in \text{Im}(f)$. O conjunto $\mathcal{C}_k = \{(x_1, x_2, \dots, x_n) \in D; f(x_1, x_2, \dots, x_n) = k\} \subset D \subset \mathbb{R}^n$ é dito conjunto de nível de f no nível k . As curvas de nível são o caso particular $n = 2$.

Quando $n = 3$, os conjuntos de nível se denotam por S_k e se chamam superfície de nível de f no nível k .

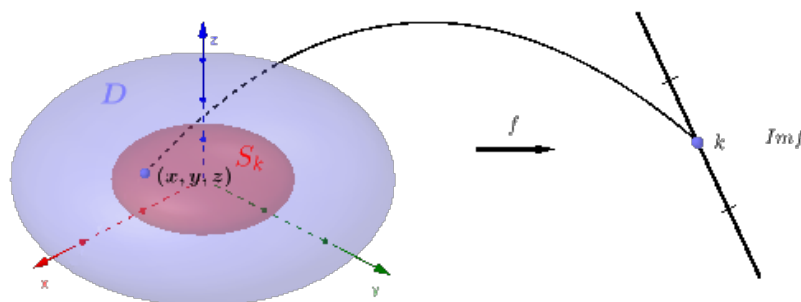


Figure 1: Relação da superfície de nível com o domínio e a imagem da função

Observação

- (I) Se $f : D \subset \mathbb{R}^2 \rightarrow \mathbb{R}$, então $G_f \subset \mathbb{R}^3$, $C_k \subset D \subset \mathbb{R}^2$, $\text{Im}(f) \subset \mathbb{R}$.
- (II) Se $f : D \subset \mathbb{R}^3 \rightarrow \mathbb{R}$, então $G_f \subset \mathbb{R}^4$, $S_k \subset D \subset \mathbb{R}^3$, $\text{Im}(f) \subset \mathbb{R}$.
- (III) Se $f : D \subset \mathbb{R}^n \rightarrow \mathbb{R}$, então $G_f \subset \mathbb{R}^{n+1}$, $C_k \subset D \subset \mathbb{R}^n$, $\text{Im}(f) \subset \mathbb{R}$.

Exemplos

1. Seja $f(x, y, z) = x^2 + y^2$. Determine:

- (a) D_f
- (b) $Im(f)$
- (c) a superfície de nível que passa pelo ponto $(1, 0, 0)$

Solução

- (a) $D_f = \mathbb{R}^3$
- (b) $Im(f) = [0, +\infty[$
- (c) $f(1, 0, 0) = 1$, então o nível da curva é $k = 1$. Daí, $S_1 : x^2 + y^2 = 1$ é a curva desejada. Como essa equação não envolve a variável z , isso significa que qualquer plano horizontal $z = k$ (paralelo ao plano xy) intercepta o G_f segundo a circunferência $x^2 + y^2 = 1$. Assim, o G_f é obtido tomando-se a circunferência $x^2 + y^2 = 1$, no plano xy e deslocando-a paralelamente ao eixo z . A superfície é dita cilindro circular reto.

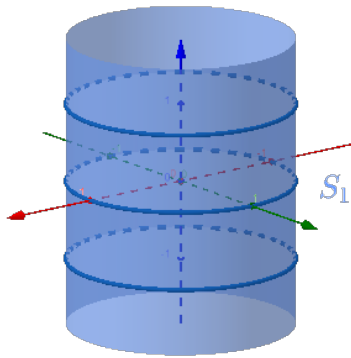


Figure 2: Superfície de nível $k = 1$ da função $f(x, y, z) = x^2 + y^2$

2. Seja $f(x, y, z) = x^2 + y^2 - z^2$. Determine:

- (a) D_f
- (b) $Im(f)$
- (c) S_k , superfícies de nível

Solução

- (a) $D_f = \mathbb{R}^3$
- (b) $Im(f) = \mathbb{R}$
- (c) Seja $k \in Im(f) = \mathbb{R}$. Então, a superfície de nível correspondente é

$$S_k : x^2 + y^2 - z^2 = k$$

Se $k = 0$, temos $S_0 : x^2 + y^2 - z^2 = 0$ ou $z^2 = x^2 + y^2$. Fazendo $x = 0$, temos $z = \pm|y|$ e fazendo $z = c$, temos $x^2 + y^2 = c^2$. Logo, temos a forma de S_0 que é um cone.

Se $k > 0$, temos $S_k : x^2 + y^2 - z^2 = k$. Fazendo $x = 0$, temos a hipérbole $y^2 - z^2 = k$ no plano yz de vértices $(0, \sqrt{k}, 0)$ e $(0, -\sqrt{k}, 0)$. Fazendo $z = c$, temos a circunferência $x^2 + y^2 = k + c^2$. Assim, temos a superfície S_k , $k > 0$, dita hiperbolóide de uma folha.

Se $k < 0$ ou $-k > 0$, temos $S_k : z^2 - y^2 = -k$. Fazendo $x = 0$, temos a hipérbole $z^2 - y^2 = -k$ no plano yz de vértices $(0, 0, \sqrt{-k})$, $(0, 0, -\sqrt{-k})$. Fazendo $z = c$, com $c > \sqrt{-k}$ ou $c < -\sqrt{-k}$, temos circunferências $x^2 + y^2 = k + c^2$. Assim, temos a superfície S_k , $k < 0$, dita hiperbolóide de duas folhas.

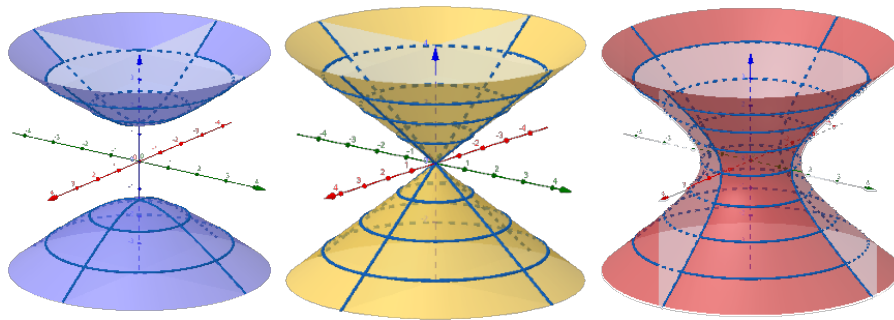


Figure 3: Superfície de nível $k < 0$ (azul), $k = 0$ (amarelo) e $k > 0$ (vermelho) da função $f(x, y, z) = x^2 + y^2 - z^2$

A versão do mapa de contorno para as superfícies de nível seria um gráfico 3D com as superfícies de nível uma dentro da outra:

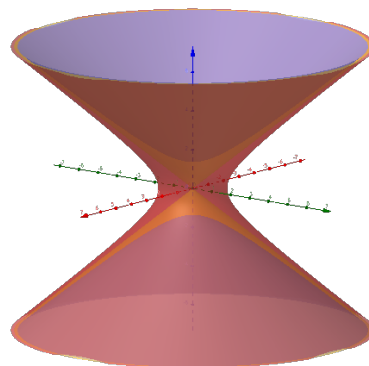


Figure 4: Gráfico 3D com as superfícies de nível da função $f(x, y, z) = x^2 + y^2 - z^2$

Exercícios

1. Seja $f(x, y, z) = \ln(x^2 + y^2 + z^2 - 1)$. Determine:

(a) D_f

- (b) $Im(f)$
 (c) superfícies de nível
2. A temperatura em uma região D do \mathbb{R}^3 é dada por $T(x, y, z) = \sqrt{36 - 4x^2 - 9y^2 - z^2}$
 Determine:
- (a) a região D
 (b) ImT
 (c) o conjunto de pontos que possuem a mesma temperatura do que o ponto $(0, 1, \sqrt{2})$
 (d) as isotermas
3. Se a voltagem V no ponto $P(x, y, z)$ é dada por

$$V = \frac{6}{(x^2 + 4y^2 + 9z^2)^{\frac{1}{2}}}$$

Determine:

- (a) domínio de V
 (b) ImV
 (c) as equipotenciais

Respostas

1. (a) $D_f : x^2 + y^2 + z^2 > 1$
 (b) $Im(f) = \mathbb{R}$
 (c) $S_k : x^2 + y^2 + z^2 = 1 + e^k$, $k \in \mathbb{R}$, esferas concêntricas de raio $\sqrt{1 + e^k}$ e centro na origem.
2. (a) $D = \left\{ (x, y, z); \frac{x^2}{9} + \frac{y^2}{4} + \frac{z^2}{36} \leq 1 \right\}$
 (b) $ImT = [0, 6]$
 (c) $S_5 : 4x^2 + 9y^2 + z^2 = 11$
 (d) $S_0 : \frac{x^2}{9} + \frac{y^2}{4} + \frac{z^2}{36} = 1$, $S_6 = \{(0, 0, 0)\}$, $S_k : 4x^2 + 9y^2 + z^2 = 36 - k^2$, $0 < k < 6$, elipsoides concêntricos de centro na origem.
3. (a) $D_V = \mathbb{R}^3 - \{(0, 0, 0)\}$
 (b) $ImV =]0, +\infty[$
 (c) $S_k : x^2 + 4y^2 + 9z^2 = \frac{36}{k^2}$, $k > 0$, elipsoides concêntricos de centro na origem.

